

Oblicz i uporządkuj wyniki w kolejności rosnącej.

Litery utworzą kod.

Ustaw piramidę z literami według jednej z kart kolejności.



A	$-16 + 24$
B	$9 - 21$
C	$-14 + (-28)$
D	$-5 + 16$
E	$-7 - (-16)$
F	$3 - 11$



Zamień liczby rzymskie na liczby arabskie.

Korzystając z legendy z kolorami wykonaj rysunek na kratownicy.



Co narysowałeś?

--	--	--	--	--

Uprość wyrażenia, zapisz je w postaci potęgi.

Wartość wykładnika to liczba kroków, które musisz zrobić i zaznaczyć na kratownicy rozpoczynając od czarnego punktu.

Strzałki wskazują kierunek ruchu.



Co narysowałeś?

AIR FRANCE

BRITISH AIRWAYS
Alitalia

D						
---	--	--	--	--	--	--

Wykonaj obliczenia.

Pomaluj kratownicę według wzoru.



AIR FRANCE

BRITISH AIRWAYS

Co narysowałeś?

Alitalia

w					
---	--	--	--	--	--

Zaznacz w układzie współrzędnych odcinki, które powstały w wyniku łączenia kolejnych punktów.



(0,0) (6,-3) (3,3) (-1,-1) (-2,-1)

I (-3,0) (-3,1) (-2,2) (-2,4) (-1,5) (1,5)

(2,6) (3,6) (4,5) (4,4) (2,2) (2,4) (1,5)

II (-2,2) (-1,1) (1,1)

Co narysowałeś?

AIR FRANCE

Alitalia

BRITISH AIRWAYS

<input type="checkbox"/>	<input type="checkbox"/>	<input type="checkbox"/>	<input type="checkbox"/>
--------------------------	--------------------------	--------------------------	--------------------------

Ułóż piramidę (3-2-1) z kubków, tak aby spełnione było następujące kryterium:



Dzielenie przez 3



Ułóż piramidę z kubków dołącz odpowiednio kolory.



zaokrąglenie do setek równe 0



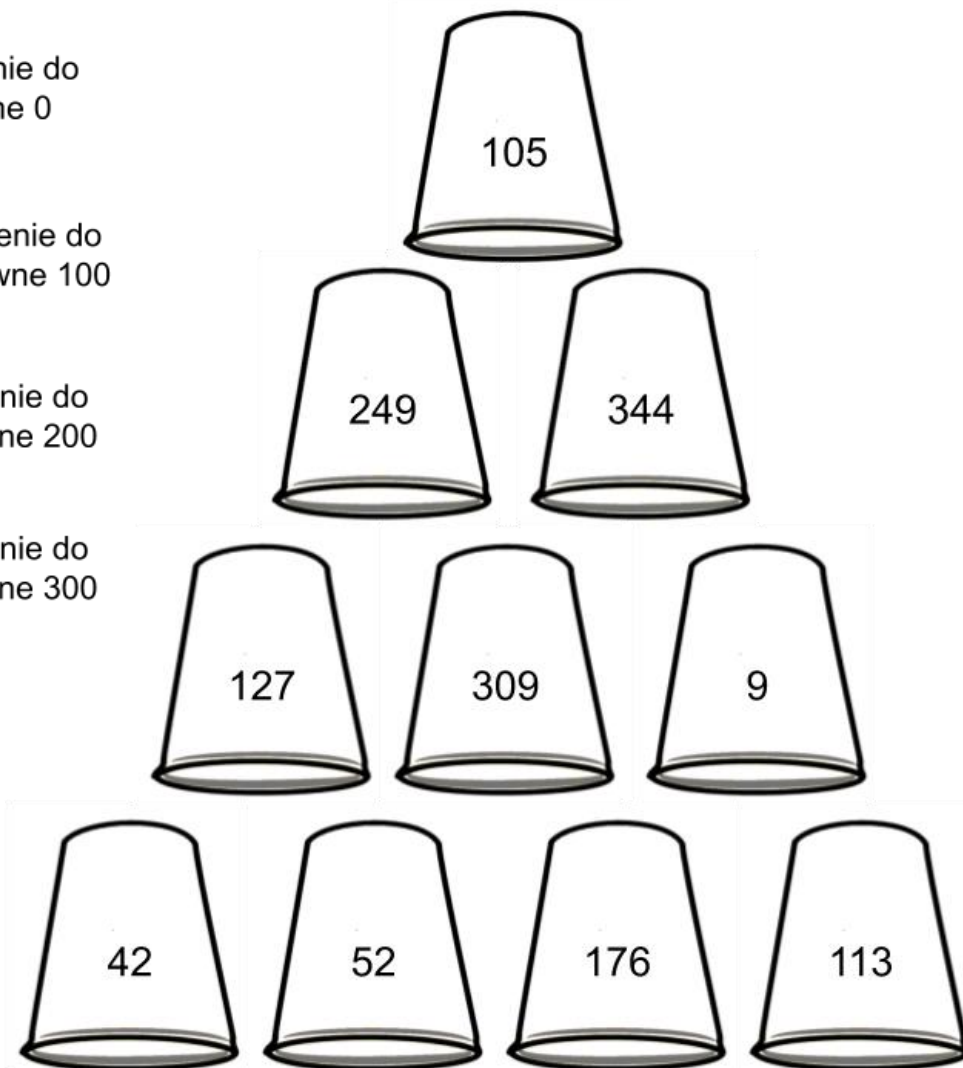
zaokrąglenie do setek równe 100



zaokrąglenie do setek równe 200




zaokrąglenie do setek równe 300



Zeskanuj kody. Ułóż je w odpowiedniej kolejności i rozwiąż zadanie.



Odkoduj działania z wykorzystaniem następującego panelu.



BRITISH AIRWAYS

AIR FRANCE

Alitalia

Cyfra dziesiątek
mianownika różnicy liczb

Część całkowita sumy

Mniejszy z liczników
otrzymanych wyników




	<input type="text" value="G"/>
	<input type="text" value="Z"/>
	<input type="text" value="W"/>




	<input type="text" value="A"/>
	<input type="text" value="S"/>
	<input type="text" value="A"/>



	<input type="text" value="0"/>
	<input type="text" value="0"/>
	<input type="text" value="0"/>





0	1	2	3	4	5	6	7	8	9
---	---	---	---	---	---	---	---	---	---